

제 2 교시

수학 영역(기하)

짜수형

5지선다형

23. 좌표공간의 점 $A(2, 2, -1)$ 을 x 축에 대하여 대칭이동한 점을 B라 하자. 점 $C(-2, 1, 1)$ 에 대하여 선분 BC의 길이는?
[2점]

- ① 1 ② 2 ③ 3 ④ 4 ⑤ 5

24. 초점이 $F\left(\frac{1}{3}, 0\right)$ 이고 준선이 $x = -\frac{1}{3}$ 인 포물선이 점 $(a, 2)$ 를 지날 때, a 의 값은? [3점]

- ① 1 ② 2 ③ 3 ④ 4 ⑤ 5

25. 타원 $\frac{x^2}{a^2} + \frac{y^2}{b^2} = 1$ 위의 점 $(2, 1)$ 에서의 접선의
기울기가 $-\frac{1}{2}$ 일 때, 이 타원의 두 초점 사이의 거리는?
(단, a, b 는 양수이다.) [3점]

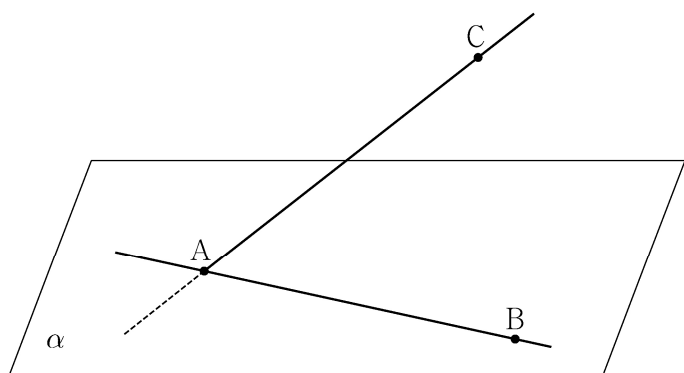
① $2\sqrt{3}$ ② 4 ③ $2\sqrt{5}$ ④ $2\sqrt{6}$ ⑤ $2\sqrt{7}$

26. 좌표평면에서 세 벡터
 $\vec{a} = (2, 4), \vec{b} = (2, 8), \vec{c} = (1, 0)$
에 대하여 두 벡터 \vec{p}, \vec{q} 가
 $(\vec{p} - \vec{a}) \cdot (\vec{p} - \vec{b}) = 0, \vec{q} = \frac{1}{2}\vec{a} + t\vec{c} \text{ (} t \text{는 실수)}$
를 만족시킬 때, $|\vec{p} - \vec{q}|$ 의 최솟값은? [3점]

① $\frac{3}{2}$ ② 2 ③ $\frac{5}{2}$ ④ 3 ⑤ $\frac{7}{2}$

27. 좌표공간에 직선 AB 를 포함하는 평면 α 가 있다. 평면 α 위에 있지 않은 점 C 에 대하여 직선 AB 와 직선 AC 가 이루는 예각의 크기를 θ_1 이라 할 때 $\sin \theta_1 = \frac{4}{5}$ 이고, 직선 AC 와 평면 α 가 이루는 예각의 크기는 $\frac{\pi}{2} - \theta_1$ 이다. 평면 ABC 와 평면 α 가 이루는 예각의 크기를 θ_2 라 할 때, $\cos \theta_2$ 의 값은? [3점]

- ① $\frac{\sqrt{7}}{4}$ ② $\frac{\sqrt{7}}{5}$ ③ $\frac{\sqrt{7}}{6}$ ④ $\frac{\sqrt{7}}{7}$ ⑤ $\frac{\sqrt{7}}{8}$

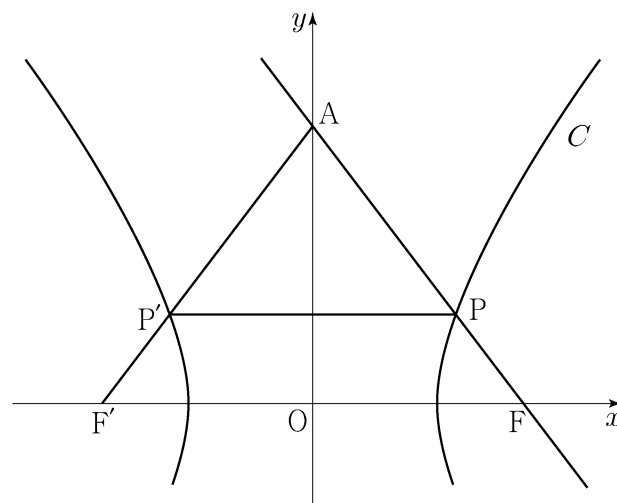


28. 두 초점이 $F(c, 0), F'(-c, 0) (c > 0)$ 인 쌍곡선 C 와 y 축 위의 점 A 가 있다. 쌍곡선 C 가 선분 AF 와 만나는 점을 P , 선분 AF' 과 만나는 점을 P' 이라 하자. 직선 AF 는 쌍곡선 C 의 한 점근선과 평행하고

$$\overline{AP} : \overline{PP'} = 5 : 6, \quad \overline{PF} = 1$$

일 때, 쌍곡선 C 의 주축의 길이는? [4점]

- ① $\frac{13}{6}$ ② $\frac{9}{4}$ ③ $\frac{7}{3}$ ④ $\frac{29}{12}$ ⑤ $\frac{5}{2}$



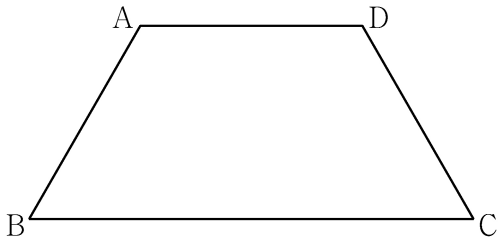
단답형

29. 평면 α 위에 $\overline{AB} = \overline{CD} = \overline{AD} = 2$, $\angle ABC = \angle BCD = \frac{\pi}{3}$ 인 사다리꼴 ABCD가 있다. 다음 조건을 만족시키는 평면 α 위의 두 점 P, Q에 대하여 $\overrightarrow{CP} \cdot \overrightarrow{DQ}$ 의 값을 구하시오. [4점]

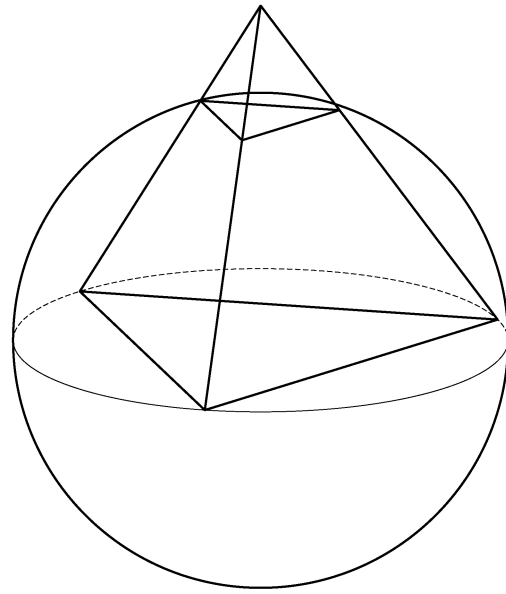
(가) $\overrightarrow{AC} = 2(\overrightarrow{AD} + \overrightarrow{BP})$

(나) $\overrightarrow{AC} \cdot \overrightarrow{PQ} = 6$

(다) $2 \times \angle BQA = \angle PBQ < \frac{\pi}{2}$



30. 좌표공간에 정사면체 ABCD가 있다. 정삼각형 BCD의 외심을 중심으로 하고 점 B를 지나는 구를 S 라 하자. 구 S 와 선분 AB가 만나는 점 중 B가 아닌 점을 P, 구 S 와 선분 AC가 만나는 점 중 C가 아닌 점을 Q, 구 S 와 선분 AD가 만나는 점 중 D가 아닌 점을 R라 하고, 점 P에서 구 S 에 접하는 평면을 α 라 하자. 구 S 의 반지름의 길이가 6일 때, 삼각형 PQR의 평면 α 위로의 정사영의 넓이는 k 이다. k^2 의 값을 구하시오. [4점]



* 확인 사항

- 답안지의 해당란에 필요한 내용을 정확히 기입(표기)했는지 확인하시오.