

제 4 교시

탐구 영역(통합사회)

성명		수험번호						1				
----	--	------	--	--	--	--	--	---	--	--	--	--

1. 다음 사례와 관련하여 사회 문제를 탐구할 때, 각 관점에 따른 활동 내용으로 적절한 것만을 <보기>에서 고른 것은?

우리나라의 2023년 합계 출산율이 0.72명으로 집계되었다. 이는 세계 최저 수준이다. 저출산 문제가 지속된다면 국가적 비상사태에 직면할 것이라는 우려의 목소리가 높아졌다.

합계 출산율 추이

※ 합계 출산율: 한 여성이 가임 기간에 낳을 것으로 기대되는 평균 출생아 수

- <보 기>
- ㄱ. 시간적 관점: 우리나라의 지역별 합계 출산율 비교하기
  - ㄴ. 공간적 관점: 출산율이 감소하는 시대적 배경 분석하기
  - ㄷ. 사회적 관점: 출산율에 영향을 미치는 제도 조사하기
  - ㄹ. 윤리적 관점: 저출산 문제 해결을 위한 바람직한 태도 탐구하기

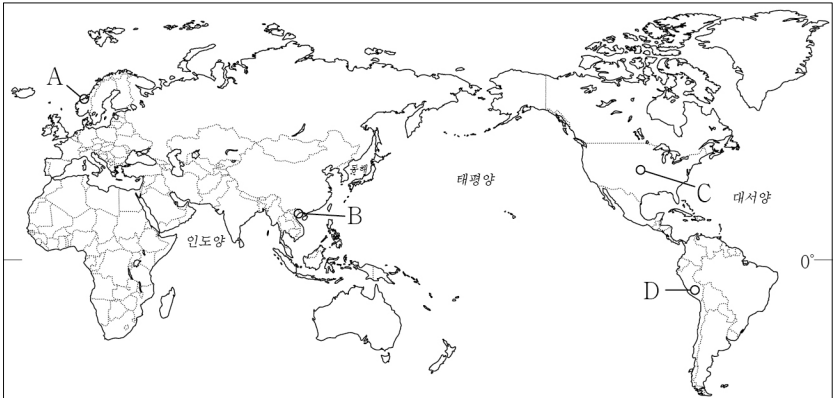
- ① ㄱ, ㄴ    ② ㄱ, ㄷ    ③ ㄴ, ㄷ    ④ ㄴ, ㄹ    ⑤ ㄷ, ㄹ

2. 다음은 다큐멘터리 촬영 계획의 일부이다. (가)~(다) 지역을 지도의 A~D에서 고른 것은? [3점]

■ 제작 의도: 지형을 활용하여 살아가는 다양한 주민 생활 소개

■ 촬영 장면

(가)	유람선 위에서 푸른 바다 곳곳에 솟아오른 석회암 바위들에 얹힌 전설을 관광객에게 설명하고 있는 주민들의 모습
(나)	끝없이 펼쳐진 넓은 평야 지대에서 대형 농기계를 이용하여 대규모로 상업적 밀 농사를 짓고 있는 농부들의 모습
(다)	험준한 고산 지대에 건설된 옛 제국의 유적지에서 전통 복장을 입고 흥겨운 노래를 부르며, 관광객을 맞이하고 있는 원주민들의 모습



- |     |     |     |     |     |     |
|-----|-----|-----|-----|-----|-----|
| (가) | (나) | (다) | (가) | (나) | (다) |
| ① A | B   | C   | ② A | C   | D   |
| ③ B | C   | D   | ④ B | D   | C   |
| ⑤ D | B   | A   |     |     |     |

3. B와 비교한 A의 상대적 특징에 대한 설명으로 옳은 것은? (단, A, B는 각각 산업 사회, 정보 사회 중 하나임.)

A는 지식과 정보가 부의 원천이 되는 사회로, 정보 통신 기기를 이용해 많은 양의 정보를 신속하게 처리한다. 또한 인터넷이 발달함에 따라 사회와 생활 양식에 다양한 변화가 나타난다. B는 자본과 노동이 제품 생산의 중심이 되는 사회로, 공업과 서비스업의 비중이 높아지며 농업 사회에 비해 제품의 생산력과 생활 수준이 크게 올라간다.

- ① 재택근무의 비중이 낮다.
- ② 전자 상거래의 비중이 낮다.
- ③ 직업의 동질성 정도가 높다.
- ④ 소품종 대량 생산 방식의 비중이 높다.
- ⑤ 쌍방향 매체를 통한 정보 전달의 비중이 높다.

4. 다음 글에서 강조하는 내용으로 가장 적절한 것은?

기부와 행복이 상관관계가 있는 것으로 많은 연구들에 의해 밝혀졌다. 기부를 한 사람들이 기부를 하지 않은 사람들에 비해 더 큰 행복감을 느꼈다고 밝혔으며, 기부에 참여한 사람의 행복 지수가 기부에 참여하지 않은 사람보다 더 높은 것으로 나타났다. 또한 기부를 받은 사람도 기부를 받은 후 행복 수준이 상승하였다.

- ① 기부 활동과 행복한 삶은 연관성이 없다.
- ② 도덕적 실천은 다른 사람에게만 행복을 가져다준다.
- ③ 자신과 타인의 비교를 통해서만 행복을 얻을 수 있다.
- ④ 남에 대한 무관심이 자신과 타인의 행복을 증가시킨다.
- ⑤ 남과 더불어 살아가려는 노력은 행복한 삶을 가능하게 한다.

5. 표의 A, B는 각각 수정 자본주의와 신자유주의 중 하나이다. 이에 대한 설명으로 옳은 것은? (단, 질문에 대한 대답은 ‘예’, ‘아니요’로만 할 수 있음.) [3점]

질 문	A	B
복지 정책을 강화해야 하는가?	아니요	예
(가)	㉠	㉡

- ① A를 토대로 뉴딜 정책이 추진되었다.
- ② B는 노동 시장의 유연화를 지향한다.
- ③ (가)가 ‘공기업의 민영화를 찬성하는가?’라면, ㉠은 ‘아니요’, ㉡은 ‘예’이다.
- ④ ㉠과 ㉡이 서로 다른 대답이라면, (가)에는 ‘사유 재산 제도를 인정하는가?’가 들어갈 수 없다.
- ⑤ ㉠과 ㉡이 동일한 대답이라면, (가)에는 ‘큰 정부보다 작은 정부를 지향하는가?’가 들어갈 수 있다.

6. 다음 자료는 환경 문제를 해결하기 위해 체결된 국제 협약이다.  
(가) ~ (라)에 대한 옳은 설명만을 <보기>에서 고른 것은? [3점]


협약명 (Agreement Name)	체결 도시 (City of Signing)	주요 협약 내용 (Main Content)
람사르 협약(1971년)	체결 도시: 람사르(이란)	주요 협약 내용: (가)
몬트리올 의정서(1987년)	체결 도시: 몬트리올(캐나다)	주요 협약 내용: (나)
생물 다양성 협약(1992년)	체결 도시: 리우데자네이루(브라질)	주요 협약 내용: (다)
파리 협정(2015년)	체결 도시: 파리(프랑스)	주요 협약 내용: (라)

<보 기>

- ㄱ. (가)는 습지의 파괴를 막고, 물새의 서식지를 보호하는 협약이다.
- ㄴ. (나)는 선진국과 개발도상국이 힘을 모아 온실가스 배출량을 단계적으로 감축하는 협약이다.
- ㄷ. (다)는 멸종 위기에 처한 생물종의 보호 및 번식을 위한 협약이다.
- ㄹ. (라)는 오존층 파괴 물질의 생산 및 사용을 단계적으로 감축하는 협약이다.

- ①  $\neg, \perp$     ②  $\neg, \sqsubset$     ③  $\perp, \sqsubset$     ④  $\perp, \sqsupset$     ⑤  $\sqsubset, \sqsupset$

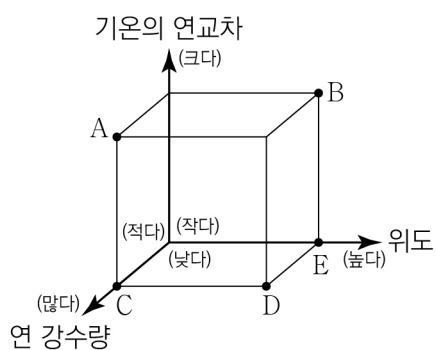
7. 다음은 두 지역의 전통 가옥을 소개한 자료이다. (가) 기후 지역과 비교한 (나) 기후 지역의 상대적 특징을 그래프 A~E에서 고른 것은? [3점]



### <몽골의 게르>



### <타이의 고상 가옥>



- ① A
- ② B
- ③ C
- ④ D
- ⑤ E

8. 다음 글에서 부각되는 정보 사회의 문제점으로 가장 적절한 것은?

급변하는 정보 사회에서는 정보를 가진 자와 못 가진 자, 정보를 활용하는 자와 활용하지 못하는 자로 나뉜다. 정보의 가치가 중요시되면서 정보는 소득·재산·권력·지식과 같은 사회적 자원이 된다. 사회·경제적 지위가 높을수록 많은 정보를 차지하게 되고, 많은 정보를 차지할수록 사회·경제적 지위는 더 높아진다. 반대로 사회·경제적 지위가 낮을수록 차지할 수 있는 정보의 양은 적어지고, 이에 따라 사회·경제적 지위는 더 낮아진다.

- ① 개인 정보 유출과 사생활 침해 문제가 발생한다.
- ② 정보 격차는 사회 불평등을 심화시키는 요인이 된다.
- ③ 비대면 관계의 증가로 인한 인간 소외 현상이 나타난다.
- ④ 국가에 의한 정보 통제와 감시가 증가하는 문제가 나타난다.
- ⑤ 정보 통신 기기의 과다 사용으로 인한 중독 문제가 발생한다.

9. 기본권의 유형 A ~ C에 대한 설명으로 옳은 것은? (단, A ~ C는 각각 자유권, 평등권, 사회권 중 하나임.) [3점]

○ 갑은 출근하던 중 지하철에서 경찰관에게 체포되었다. 하지만 이 과정에서 체포의 이유 및 변호인의 조력을 받을 권리를 전혀 고지받지 못해 [A]를 침해당했다.

○ 을은 열악한 고시원에서 살고 있다. 최저 주거 기준에 미치지 못하는 고시원 시설로 인해 인간다운 생활을 할 권리인 [B]를 침해당했다.

○ 평소 간호사가 되고 싶었던 병은 ○○병원 간호사 채용 시험에 응시하였다. 그러나 합리적 이유 없이 성별만을 이유로 채용에서 배제되어 [C]를 침해당했다.

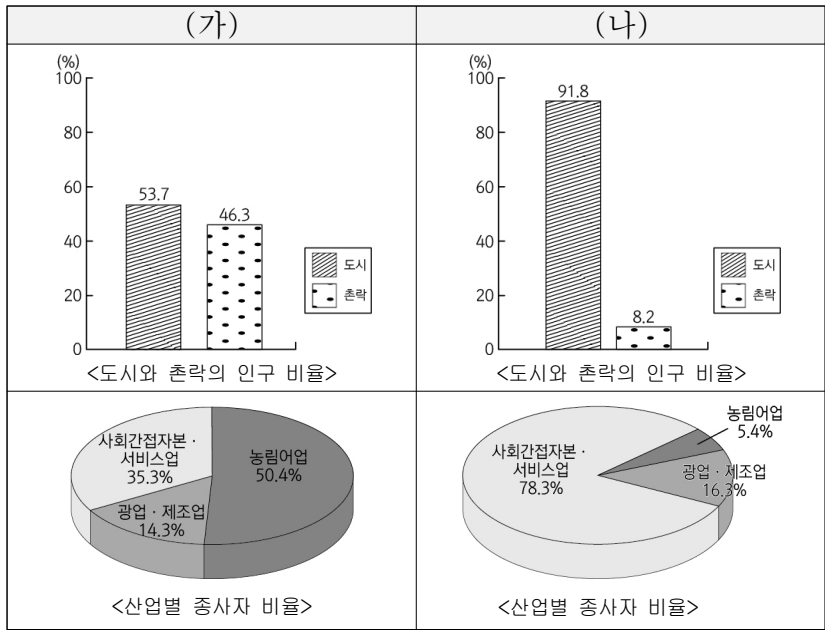
- ① A의 예로 교육을 받을 권리를 들 수 있다.
- ② B는 국가 권력으로부터 간섭받지 않을 방어적 권리이다.
- ③ C는 가장 최근에 등장한 현대적 권리이다.
- ④ B는 A와 달리 국가의 존재를 전제로 한 적극적 권리이다.
- ⑤ C는 B와 달리 다른 기본권 보장을 위한 수단적 성격의 권리이다.

10. 다음 사례에서 부각되는 사회적 소수자의 특징으로 가장 적절한 것은?

유럽의 식민지 경쟁으로 흑인들이 살고 있던 ○○국에 백인들이 유입되었다. ○○국 전체 인구의 10% 정도를 차지하는 백인들이 점차 권력을 잡아갔다. 정권을 잡은 소수의 백인들로부터 다수의 흑인들은 거주 공간·직업·투표권을 제한당하는 등 사회 전반에 걸쳐 차별을 받았다.

- ① 사회적 소수자는 집단의 크기에 의해 결정되는 것이 아니다.
- ② 사회적 소수자에 대한 차별은 개인적 능력 차이에 기인한다.
- ③ 사회적 소수자를 규정하는 기준은 절대적이며 변하지 않는다.
- ④ 사회적 소수자는 해당 사회에서 지배적인 영향을 끼치는 집단과 동일한 신체적 특징을 가지고 있다.
- ⑤ 사회적 소수자는 해당 사회에서 지배적인 영향을 끼치는 집단보다 경제적 자원 획득에 유리한 위치에 있다.

11. (가)와 비교한 (나)의 상대적 특징에 대한 추론으로 옳지 않은 것은? (단, (가), (나)는 각각 우리나라의 1970년, 2020년 중 하나임.)



(통계청)

- ① 1인 가구의 비중이 증가하였을 것이다.
- ② 도시의 토지 이용 집약도가 높아졌을 것이다.
- ③ 사람들이 종사하는 직업의 종류가 다양해졌을 것이다.
- ④ 공동체 의식보다 개인주의적 가치관이 확산되었을 것이다.
- ⑤ 지표의 포장 면적 확대에 불투수 면적이 감소하였을 것이다.

12. 다음은 청소년 노동권에 대한 수업 활동을 정리한 자료이다. 이에 대한 설명으로 옳은 것은? [3점]

<규칙> 사례에 대한 법적 판단이 옳으면 ‘○’, 옳지 않으면 ‘×’로 표시한다. ‘○’, ‘×’를 옳게 표시하면 배정된 점수를 획득한다.

<사례> 사업주 A(45세)와 고등학생 B(17세)가 1일 5시간, 주 25시간의 근로 계약을 체결했다.

<갑, 을, 병의 답변 결과>

<사례>에 대한 법적 판단	배점	갑	을	병
B는 A에게 단독으로 임금을 청구할 수 있다.	1점	○	×	○
B는 A에게 근무 시간 중 휴게시간을 요구할 수 없다.	2점	○	×	○
A와 B의 합의가 있을 경우, 최저임금제를 적용하지 않을 수 있다.	3점	×	○	×
법정 대리인의 동의가 있더라도 B는 보건상 유해한 업종에 종사할 수 없다.	4점	×	○	○

- ① 갑이 획득한 점수는 5점이다.
- ② 획득한 점수의 합이 가장 높은 사람은 을이다.
- ③ 옳게 답한 개수가 가장 많은 사람은 병이다.
- ④ 을이 갑보다 옳게 답한 개수가 1개 더 많다.
- ⑤ 병이 획득한 점수는 갑이 획득한 점수보다 3점이 더 높다.

13. (가) 사상의 관점에서 (나)의 문제를 해결하기 위해 제시할 수 있는 적절한 주장만을 <보기>에서 고른 것은?

(가)	세상의 모든 존재는 원인[因]과 조건[緣]의 상호 관계에 의해서 끊임없이 생멸(生滅)한다. 따라서 이 세상 어느 것도 독립하여 스스로 존재하는 것은 없다.
(나)	〇〇연구소는 세계 각국의 무분별한 자원 개발과 환경 파괴로 지구 온도가 지속적으로 상승할 것으로 예측하였다. 이로 인해 대규모의 사상자가 나올 것이라고 경고했다.

- <보 기>
- ㄱ. 인간을 자연 생태계 일부로 인식해야 한다.
  - ㄴ. 인간에게 주는 이익에 따라 자연을 평가해야 한다.
  - ㄷ. 인간과 자연이 공존할 수 있는 방안을 모색해야 한다.
  - ㄹ. 인간은 자연의 주인으로서 지배적 권리를 강화해야 한다.

- ① ㄱ, ㄴ    ② ㄱ, ㄷ    ③ ㄴ, ㄷ    ④ ㄴ, ㄹ    ⑤ ㄷ, ㄹ

14. 다음 편지를 쓴 고대 서양 사상가가 강조하는 삶의 태도로 가장 적절한 것은?

〇〇〇에게

그동안 별일 없이 지냈는가? 이제 내가 생각하는 쾌락에 대해 이야기하려고 하네. 결핍으로 인한 고통이 제거된다면 단순한 음식도 우리에게 사치스러운 음식과 같은 쾌락을 준다네. 또한 빵과 물은 그것을 필요로 하는 사람에게 가장 큰 쾌락을 제공한다네. 그러므로 사치스럽지 않고 단순한 음식에 길들여지는 것은 우리들에게 완전한 건강을 주며, 우리가 생활하면서 꼭 필요한 것들에 주저하지 않게 해 준다네.

- ① 모든 욕구를 적극적으로 충족시켜야 한다.
- ② 행복을 위해 사치스러운 삶을 추구해야 한다.
- ③ 참된 쾌락을 얻기 위해 모든 욕구를 없애야 한다.
- ④ 행복한 삶을 위해 욕구를 분별하고 절제해야 한다.
- ⑤ 정신적 쾌락이 아닌 육체적 쾌락을 추구해야 한다.

15. 다음 자료에 대한 옳은 분석 및 추론만을 <보기>에서 고른 것은? [3점]

갑은 여행을 가기 위해 이동 수단 A~C 중 하나를 합리적으로 선택하려고 한다. 표는 A~C의 가격과 갑의 선택으로 발생하는 편익을 나타낸다. 단, 제시된 자료 외에 다른 조건은 고려하지 않는다.

이동 수단	가격(만 원)	편익(만 원)
A	4	7
B	5	9
C	⑦ 7	15

- <보 기>
- ㄱ. A 선택의 암묵적 비용은 4만 원이다.
  - ㄴ. B 선택의 명시적 비용은 5만 원이다.
  - ㄷ. C 선택의 기회비용이 가장 크다.
  - ㄹ. ⑦이 ‘10’으로 변동하면 B 선택의 기회비용은 감소한다.

- ① ㄱ, ㄴ    ② ㄱ, ㄷ    ③ ㄴ, ㄷ    ④ ㄴ, ㄹ    ⑤ ㄷ, ㄹ



16. A, B에 대한 옳은 설명만을 <보기>에서 고른 것은? [3점]

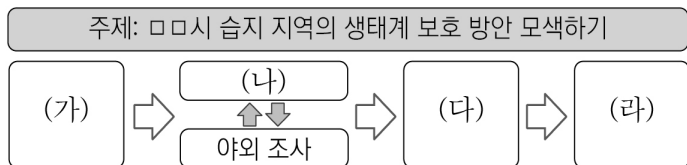
- ☐ A 는 일반적인 재화나 서비스와는 다른 특성을 가진다. 대가를 지급하지 않은 사람도 소비할 수 있고, 한 사람이 소비한다고 해서 다른 사람의 소비 기회가 줄어들지 않는다.
- 어떤 경제 주체의 행동이 제3자에게 의도하지 않은 손해를 끼치면서도 이에 대한 대가를 치르지 않을 때 ☐ B 가 발생하였다고 본다.

— <보 기> —

- ㄱ. A는 시장에서 과다 생산된다.
- ㄴ. 정부는 A를 공급하는 역할을 담당한다.
- ㄷ. B는 긍정적 외부 효과이다.
- ㄹ. A, B 모두 자원이 비효율적으로 배분되는 시장 실패의 요인이다.

- ① ㄱ, ㄴ    ② ㄱ, ㄷ    ③ ㄴ, ㄷ    ④ ㄴ, ㄹ    ⑤ ㄷ, ㄹ

17. 다음 자료는 지역 조사 과정을 나타낸 것이다. (가) ~ (라) 단계의 활동 내용으로 적절한 것을 <보기>에서 고른 것은? [3점]



— <보 기> —

- ㄱ. □□시 시기별 습지 면적 자료를 지리 정보 체계(GIS)로 분석하여 통계 지도로 작성하였다.
- ㄴ. □□시 △△ 방조제 내·외측에 위치한 내륙 및 연안 갯벌 습지를 조사 지역으로 선정하였다.
- ㄷ. □□시 습지에 대한 지역 조사 내용을 분석·종합하여 습지 생태계 보호를 위한 보고서를 작성하였다.
- ㄹ. 인터넷 지도인 ‘국토 정보맵’에서 △△ 방조제 내·외측에 위치한 습지 면적, 동식물 개체 수 등을 조사하였다.

- | (가) | (나) | (다) | (라) | (가) | (나) | (다) | (라) |
|-----|-----|-----|-----|-----|-----|-----|-----|
| ① ㄱ | ㄴ   | ㄷ   | ㄹ   | ② ㄴ | ㄱ   | ㄹ   | ㄷ   |
| ③ ㄴ | ㄹ   | ㄱ   | ㄷ   | ④ ㄷ | ㄴ   | ㄱ   | ㄹ   |
| ⑤ ㄷ | ㄹ   | ㄱ   | ㄴ   |     |     |     |     |

18. 갑, 을 사상가들의 입장에 대한 설명으로 가장 적절한 것은?

갑: 생명 공동체의 온전성, 안정성, 아름다움의 보존에 기여한다면 그 행위는 옳다. 대지의 이용을 경제적 관점뿐만 아니라 윤리적, 심미적 관점에서도 검토해야 한다.

을: 지식은 힘이다. 방황하는 자연을 사냥해서 인간의 이익에 봉사하도록 해야 한다. 이를 위해 인간은 자연이 어떻게 작동하는지 알고, 자연을 이용할 수 있어야 한다.

- ① 갑은 인간을 자연보다 더 가치 있고 우월한 존재로 본다.
- ② 을은 자연의 모든 생명체를 인간과 동등한 가치를 지닌 존재로 본다.
- ③ 갑은 을과 달리 생태계 전체의 유기적 관계를 중시해야 한다고 본다.
- ④ 을은 갑과 달리 자연이 인간의 이익과 무관하게 가치를 지닌다고 본다.
- ⑤ 갑, 을 모두 자연을 경제적 관점에서 이용할 수 없다고 본다.

19. 다음 자료는 서술형 평가 문항 및 답안의 채점 결과이다. 이에 대한 옳은 설명만을 <보기>에서 고른 것은? [3점]

[문항] ㉠ 시민 불복종이 정당화되기 위한 조건을 3가지 서술하시오.  
(각 조건별로 채점하며, 옳은 조건 1개당 1점을 부여함.)

[답안] ○ 비폭력적인 방법으로 이루어져야 한다.  
○ 사회 정의 실현을 목표로 삼아야 한다.  
○  (가)

채점 결과

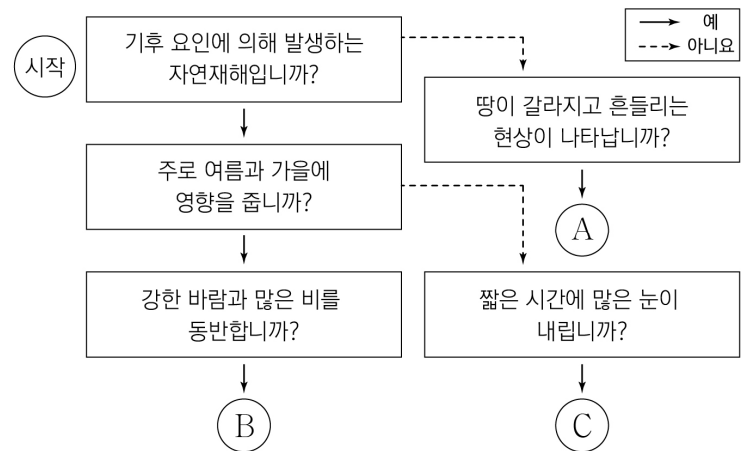
( ㉡ )

— <보 기> —

- ㄱ. ㉠은 시민 참여의 한 방법이다.
- ㄴ. ㉡이 2점이라면 (가)에는 ‘현행 법규를 위반하지 않는 범위 내에서 이루어져야 한다.’가 들어갈 수 있다.
- ㄷ. (가)에 ‘정당성 확보를 위해 비공개적으로 이루어져야 한다.’가 들어간다면 ㉡은 3점이다.
- ㄹ. (가)에 ‘합법적 방법으로 문제를 해결할 수 없을 때 최후의 수단으로 사용해야 한다.’가 들어간다면 ㉡은 2점이다.

- ① ㄱ, ㄴ    ② ㄱ, ㄷ    ③ ㄴ, ㄷ    ④ ㄴ, ㄹ    ⑤ ㄷ, ㄹ

20. 우리나라에 영향을 주는 자연재해 A ~ C에 대한 설명으로 옳지 않은 것은? (단, A ~ C는 각각 지진, 폭설, 태풍 중 하나임.)



- ① A는 예측하여 대피할 수 있다.
- ② B는 적도 부근 해상에서 발생하는 열대 이동성 저기압이다.
- ③ C는 항공기 운항에 지장을 준다.
- ④ A는 C와 달리 계절적 영향을 받지 않는다.
- ⑤ B는 C보다 하천 범람으로 농경지를 침수시킬 위험이 크다.

\* 확인 사항

- 답안지의 해당란에 필요한 내용을 정확히 기입(표기)했는지 확인하시오.