

탐구 영역(통합사회)

제 4 교시

성명

수험 번호 1

1

1. 다음 자료는 학생이 생성형 인공지능과 대화한 내용의 일부이다.

㉠ ~ ㉤ 중 옳은 진술만을 고른 것은?

생성형 인공지능

학생 '독도의 해양 환경'을 통합적으로 이해하려면 어떻게 탐구하는 게 좋을까?

챗봇 '독도의 해양 환경'을 통합적으로 이해하려면 먼저 시간적 관점, 공간적 관점, 사회적 관점, 윤리적 관점에서 탐구가 이루어져야 합니다. 각각의 관점에서 탐구하기에 적합한 내용은 다음과 같습니다.

- 시간적 관점에서는 독도 해양 환경을 보호하기 위한 바람직한 태도를 탐색합니다. ㉠
- 공간적 관점에서는 독도 해양 자원의 분포 특성을 분석합니다. ㉡
- 사회적 관점에서는 독도 해양 생태계 보전과 관련된 법률을 찾아봅니다. ㉢
- 윤리적 관점에서는 독도 해양 생태계의 시기별 변화를 조사합니다. ㉤

메시지를 입력하세요.

챗봇은 실수를 할 수 있습니다. 중요한 내용은 다시 확인하세요.

- ① ㉠, ㉡ ② ㉠, ㉢ ③ ㉡, ㉢ ④ ㉡, ㉤ ⑤ ㉢, ㉤

2. 다음 자료에 나타난 갑, 을의 문화 이해 태도에 대한 설명으로 옳은 것은? [3점]

모두가 춤추고 노래하는 A국의 흥겨운 추모 문화

갑 A국의 흥겨운 추모 문화는 고인에 대한 예의에 어긋나는 것 같아 너무 미개해. 엄숙한 분위기에서 묵념하고 슬퍼하는 우리나라의 추모 문화가 가장 우수해.

을 A국의 흥겨운 추모 문화는 고인에 대한 존중을 표현하는 전통적인 방식이야. 이러한 맥락에서 이해하면 그들의 추모 문화도 나름대로 의미가 있는 거야.

- ① 갑의 태도는 외부 문화의 수용에 적극적이다.
② 갑의 태도는 자기 문화의 정체성을 상실할 우려가 크다.
③ 을의 태도는 국수주의로 이어질 우려가 크다.
④ 을의 태도는 문화의 다양성 보존에 기여한다.
⑤ 갑과 을의 태도는 모두 문화 간에 우열이 존재하지 않는다고 본다.

3. 그림의 강연자가 지지할 입장으로 가장 적절한 것은?

우리는 법을 지키며 살아가야 합니다. 나아가 인권을 침해하는 어떤 법이 있다면 이를 합법적인 방법으로 바로잡기 위해 노력해야 합니다. 만약 이러한 노력이 모두 실패했을 때는 시민 불복종을 고려해야 합니다. 다만, 시민 불복종은 공공성, 비폭력성, 처벌 감수 등의 정당화 조건을 갖추어야 합니다. 이러한 시민 불복종은 법에 위배되지만, 사회 정의를 실현하는 행위입니다.

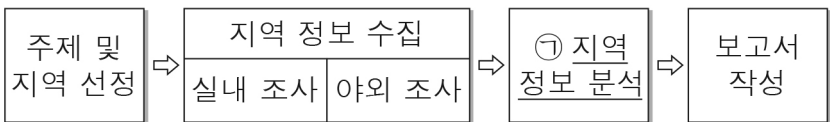
- ① 시민 불복종은 공공의 이익을 위해 시행되어야 한다.
② 시민 불복종에 따른 처벌을 받아들이지 않아야 한다.
③ 시민 불복종은 정의로운 법을 대상으로 실시되어야 한다.
④ 시민 불복종은 합법적인 노력보다 먼저 이루어져야 한다.
⑤ 시민 불복종의 목적 달성을 위해서는 폭력도 허용되어야 한다.

4. 다음 자료에 대한 분석 및 추론으로 옳은 것은? [3점]

갑은 주말 저녁 3시간 동안의 여가를 즐기기 위해 체험료가 3만 원인 ㉠ 도자기 공예 체험과 관람료가 2만 원인 ㉡ 밴드 공연 관람 중 하나를 합리적으로 선택하고자 한다. 갑의 선택에 따른 편익을 화폐 가치로 표시하면 각각 ㉢ 4만 원으로 같다. 단, 제시된 내용 이외의 조건은 고려하지 않는다.

- ① ㉠ 선택에 따른 명시적 비용은 1만 원이다.
② ㉡ 선택에 따른 암묵적 비용은 3만 원이다.
③ ㉠은 ㉡보다 선택에 따른 기회비용이 작다.
④ ㉡은 ㉠과 달리 선택에 따른 편익이 기회비용보다 크다.
⑤ ㉢이 5만 원으로 상승하면 ㉠을 선택하는 것이 합리적이다.

5. 그림의 과정에 따라 '태화강의 오염과 복원'에 대한 지역 조사를 진행하고자 한다. 밑줄 친 ㉠에 해당하는 활동으로 옳은 것은?



- ① 태화강과 그 주변을 답사하며 복원된 경관을 촬영한다.
② 태화강의 수질 변화에 대한 통계 수치를 그래프로 제작한다.
③ 태화강 인근 지역의 공업화가 태화강의 오염에 미친 영향을 다룬 문헌 자료를 조사한다.
④ 태화강의 복원을 위한 지방 자치 단체 및 지역 주민의 노력을 보도한 신문 기사를 스크랩한다.
⑤ 태화강의 수질 변화 과정에 대해 태화강 인근 지역에 30년 이상 거주한 주민과 면담을 실시한다.

2 (통합사회)

탐구 영역

6. 다음 자료에서 공통으로 추론할 수 있는 시장 실패의 요인으로 옳은 것은?

- 마당을 아름다운 정원으로 꾸민 집주인은 그 정원을 보게 되는 행인들에게 의도치 않은 만족감을 주지만, 만족감을 얻은 이들로부터 이에 대한 대가를 받을 수 없다.
- 거리에서 무분별하게 흡연을 하는 사람은 그 주변의 행인들에게 의도치 않은 피해를 주지만, 피해를 입은 이들에게 이에 대한 대가를 지불하지 않는다.

- ① 독과점 형성
- ② 공공재 부족
- ③ 외부 효과 발생
- ④ 불공정 거래 행위
- ⑤ 경제적 불평등 심화

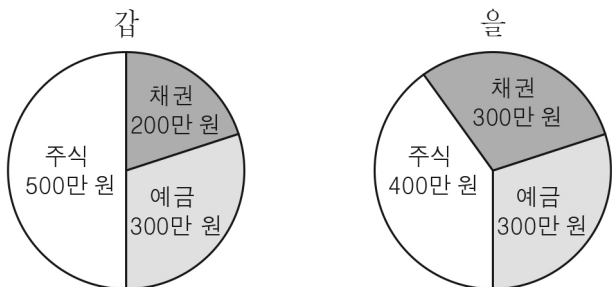
7. (가) 기후 지역에 대한 설명으로 옳은 것은?

(가) 기후 지역의 전통적 주민 생활

		
숲을 태운 곳에서 카사바를 재배하는 이동식 화전 농업	음식의 부패를 막기 위해 향신료를 넣은 볶음 요리	덥고 습한 날씨에 적합한 간편하고 얇은 옷차림

- ① 오아시스 주변에서 대추야자가 재배된다.
- ② 타이가라고 불리는 침엽수림 지대가 분포한다.
- ③ 주민들은 순록을 길러 가옥의 재료와 식량을 얻는다.
- ④ 일 년 내내 눈과 얼음으로 덮여 있어 식생이 자라지 못한다.
- ⑤ 지열을 차단하고 해충을 피하기 위한 고상 가옥이 발달한다.

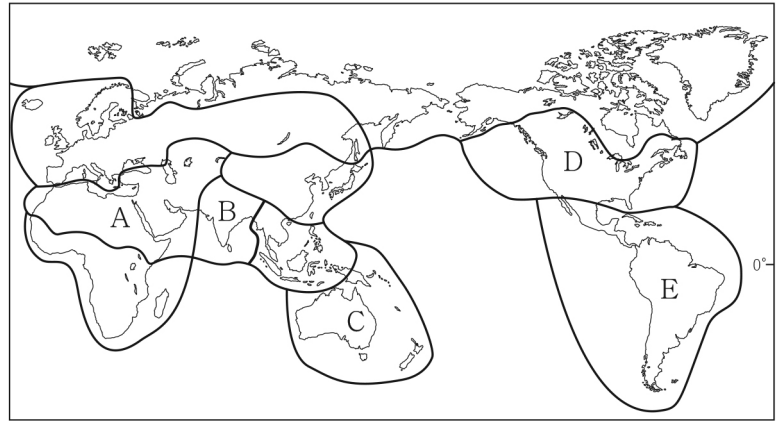
8. 그림은 갑과 을의 금융 자산별 보유액을 나타낸다. 이에 대한 설명으로 옳은 것은? [3점]



- ① 배당금을 기대할 수 있는 금융 자산의 보유액은 을이 갑보다 크다.
- ② 이자 수익을 기대할 수 있는 금융 자산의 보유액은 갑과 을이 같다.
- ③ 시세 차익을 기대할 수 있는 금융 자산의 보유액은 갑과 을이 같다.
- ④ 예금자 보호 제도의 적용을 받는 금융 자산의 보유액은 갑이 을보다 크다.
- ⑤ 정부나 기업 등이 자금을 빌린 후 제공하는 증서인 금융 자산의 보유액은 갑과 을이 같다.

9. 다음은 여행을 주제로 하는 인터넷 방송의 일부이다. (가) 국가가 포함된 문화권을 지도의 A~E에서 고른 것은? [3점]

저는 지금 (가)의 스리미낙시 사원 앞에 있어요. 사원에 다양한 신들이 조각되어 있는데, 이 나라 사람들이 가장 많이 믿는 종교와 관련이 있다고 해요. 이 종교에서 신성시하는 소들도 거리를 자유롭게 돌아다니고 있어요. 아, 맞다! 점심으로는 이 지역 전통 음식인 카레를 먹을 예정이에요. 그리고 오후에는 갠지스강에 가서 종교 의식으로 목욕을 하는 사람들과 대화를 나눠 볼게요. 계속 시청해 주세요.



- ① A
- ② B
- ③ C
- ④ D
- ⑤ E

10. (가), (나)는 인권의 역사적 발달 과정에서 발표된 문서의 일부이다. 이에 대한 옳은 설명만을 <보기>에서 고른 것은?

(가)

(나)

인간과 시민의 권리 선언(1789)

제1조

인간은 태어나면서부터 자유로우며 평등한 권리를 가진다.

제17조

소유권은 신성불가침의 권리이므로 법에서 규정한 공공의 필요에 의해 명백히 요구되는 때 이외에는 누구도 박탈할 수 없다.

바이마르 헌법(1919)

제153조

소유권은 헌법에 의하여 보장된다. ... (중략) ... 소유권의 행사는 동시에 공공의 복리에 적합해야 한다.

제163조

모든 국민에게는 노동할 기회가 주어진다. 일자리를 얻지 못한 국민은 생계비를 지원받을 수 있다.

< 보 기 >

- ㄱ. (가)는 천부 인권 사상을 반영하고 있다.
- ㄴ. (나)는 사회권을 명시하고 있다.
- ㄷ. (가)는 (나)와 달리 국가의 적극적인 역할을 강조하고 있다.
- ㄹ. (나)는 (가)와 달리 사유 재산 제도를 부정하고 있다.

- ① ㄱ, ㄴ
- ② ㄱ, ㄷ
- ③ ㄴ, ㄷ
- ④ ㄴ, ㄹ
- ⑤ ㄷ, ㄹ

11. 다음은 누리 소통망(SNS)에 게시된 여행기이다. 밑줄 친 ㉠, ㉡에 해당하는 지형으로 옳은 것은?

Love_tongsa



㉠ 지열로 데워진 물과 수증기가 분출하는 간헐천인데, 물줄기가 솟아오를 때마다 모두가 감탄했어! #미국 #엘로스톤 국립 공원

Love_tongsa



㉡ 석회암의 용식으로 만들어진 높은 봉우리들인데, 뗏목을 타고 경관을 보니 정말 멋지더라! #중국 #구이린

- | | |
|-----------|-----------|
| ㉠ | ㉡ |
| ① 빙하 지형 | ① 화산 지형 |
| ② 빙하 지형 | ② 카르스트 지형 |
| ③ 화산 지형 | ③ 빙하 지형 |
| ④ 화산 지형 | ④ 카르스트 지형 |
| ⑤ 카르스트 지형 | ⑤ 화산 지형 |

12. 다음 자료에 대한 분석으로 옳은 것은? [3점]

갑국과 을국은 각각 쌀과 반도체만을 생산한다. 표는 갑국과 을국의 각 재화 1단위 생산에 필요한 노동자 수를 나타낸다. 단, 양국의 생산 요소는 노동뿐이며, 노동자 수는 동일하다.

구분	갑국	을국
쌀	2명	3명
반도체	4명	5명

- ① 쌀의 최대 생산 가능량은 갑국이 을국보다 적다.
- ② 을국은 쌀과 반도체 생산에 모두 절대 우위를 가진다.
- ③ 갑국의 쌀 1단위 생산의 기회비용은 반도체 2단위이다.
- ④ 반도체 1단위 생산의 기회비용은 갑국이 을국보다 작다.
- ⑤ 갑국은 쌀 생산에, 을국은 반도체 생산에 비교 우위를 가진다.

13. 다음은 통합사회 형성 평가지이다. 학생이 표시한 답이 옳은 것만을 ㉠~㉣ 중에서 고른 것은?

〈 형성 평가 〉

※ 고등학생(17세)이 근로 계약 체결 시 알아 두어야 할 유의 사항에 대한 진술이 맞으면 ‘예’, 틀리면 ‘아니요’에 ☒ 표시하시오.

1. 임금을 독자적으로 청구할 수 있다. ㉠

예 ☒ 아니요 ☐

2. 법정 대리인이 근로 계약을 대신 체결해야 한다. ㉡

예 ☐ 아니요 ☒

3. 성인과 동일하게 법정 최저 임금을 보장받는다. ㉢

예 ☐ 아니요 ☒

4. 근로 시간은 원칙적으로 1일 7시간을 초과하지 못한다. ㉣

예 ☐ 아니요 ☒

- ① ㉠, ㉡ ② ㉠, ㉢ ③ ㉡, ㉢ ④ ㉡, ㉣ ⑤ ㉢, ㉣

14. 갑, 을의 입장에 대한 옳은 설명만을 <보기>에서 고른 것은? [3점]

<토론 주제>

수도권과 비수도권 중 어느 지역을 중심으로 개발해야 하는가?

갑

수도권은 인구가 많고 사회 기반 시설이 잘 갖추어져 있으며, 산업 및 편의 시설도 집중되어 있습니다. 따라서 수도권을 중심으로 개발을 진행해야 그 혜택을 많은 사람이 누릴 수 있어 효율적입니다.

을

수도권 중심 개발로 비수도권 발전이 지체되면, 교육, 문화 등 생활 환경에 있어 수도권과 비수도권 간 공간 불평등 현상이 심화됩니다. 비수도권 중심의 개발을 통해 불평등한 상황을 개선해야 합니다.

〈 보 기 〉

- ㄱ. 갑은 수도권과 비수도권 간 균형 개발을 중시하고 있다.
- ㄴ. 을은 지역 격차 완화를 위한 개발이 필요함을 강조하고 있다.
- ㄷ. 갑은 을과 달리 인구가 적은 지역을 중심으로 개발해야 한다는 주장에 동의할 것이다.
- ㄹ. 을은 갑과 달리 수도권 소재 공공 기관의 지방 이전 정책을 지지할 것이다.

- ① ㄱ, ㄴ ② ㄱ, ㄷ ③ ㄴ, ㄷ ④ ㄴ, ㄹ ⑤ ㄷ, ㄹ

15. (가)의 갑, 을의 입장에서 서로에게 제기할 수 있는 비판을 (나) 그림으로 표현할 때, A, B에 해당하는 내용으로 가장 적절한 것은? [3점]

(가)

갑: 인간은 자연의 사용자이다. 관찰을 통해 자연의 질서를 이해함으로써 자연을 복종시키면 인간 생활은 더 윤택해진다. 자연에 대한 지식이 곧 인간의 힘이다.

을: 인간은 생명 공동체의 지배자가 아니며 대지 위의 모든 존재는 평등한 구성원이다. 생명 공동체의 온전함, 안정, 아름다움의 보전에 기여한다면 그 행위는 옳다.

(나)

갑

$\xrightleftharpoons[A]{A}$

을

<법 레>

→ : 비판의 방향
A, B: 비판의 내용

<예 시>

① 갑 → 을
A는 갑이 을에게 제기할 수 있는 비판임.

- ① A: 인간에게 자연은 어떠한 가치도 없음을 간과한다.
- ② A: 인간이 자연을 지배하는 것은 부당함을 간과한다.
- ③ A: 인간은 자연의 안정을 위해 노력해야 함을 간과한다.
- ④ B: 인간은 자연으로부터 독립된 존재임을 간과한다.
- ⑤ B: 인간은 자연 그 자체의 가치를 존중해야 함을 간과한다.

4 (통합사회)

탐구 영역

16. 갑, 을의 입장에 대한 설명으로 옳은 것은? [3점]

갑: 개인의 자유는 무엇보다 중요하다. 따라서 타인의 자유를 침해하지 않는 범위에서 개인의 자유가 최대한 보장되어야 모든 사람들이 좋은 삶을 누릴 수 있다. 이를 위해 공동체는 개인에게 특정한 가치를 강요해서는 안 된다.

을: 개인의 정체성은 공동체의 영향을 받으며 형성된다. 따라서 개인이 공동체가 요구하는 책무를 이행하여 공동체 발전에 기여해야 모든 사람들이 좋은 삶을 누릴 수 있다. 이를 위해 공동체는 개인에게 공동체의 가치를 적극적으로 장려해야 한다.

- ① 갑은 개인의 자유가 무제한적으로 보장되어야 한다고 본다.
- ② 을은 공동체 발전을 위해 개인에게 주어지는 의무가 있다고 본다.
- ③ 갑은 을과 달리 개인이 공동체의 가치를 내면화해야 한다고 본다.
- ④ 을은 갑과 달리 개인이 공동체와 무관하게 정체성을 형성한다고 본다.
- ⑤ 갑과 을은 모두 개인이 좋은 삶을 누리는 데 공동체의 역할은 불필요하다고 본다.

17. 다음 가상 편지를 쓴 사람의 입장으로 가장 적절한 것은?

○○에게

인간 삶의 목적인 행복이 무엇인지 고민하는 자네의 편지를 잘 읽어 보았다네. 나는 행복이 곧 쾌락이라고 생각한다네. 그러나 오해하지 말았으면 좋겠다네. 당장에는 쾌락을 주더라도 그보다 더 많은 고통이 뒤따르는 쾌락은 우리를 불행하게 만든다네. 내가 말하는 쾌락은 육체의 고통이 없고 마음에 불안이 없는 상태를 의미한다네. 이러한 상태에 도달하려면 우리는 명예욕처럼 삶에 필수적이지 않은 욕구를 버리고, 식욕과 같이 생존을 위한 욕구는 건강을 해치지 않을 정도로만 추구해야 한다네.

- ① 쾌락은 행복에 어떠한 영향도 끼칠 수 없다.
- ② 명예를 얻으려는 욕구를 멀리해야 행복할 수 있다.
- ③ 고통이 뒤따르는 쾌락은 언제나 행복으로 이어진다.
- ④ 모든 욕구를 적극적으로 추구할수록 행복이 커진다.
- ⑤ 건강을 유지할 만큼의 식욕 추구는 행복을 저해한다.

18. (가), (나)에 나타난 문화 변동에 대한 설명으로 옳은 것은?

(가) 갑국은 고유한 언어를 사용하고 있었으나 A국의 식민 지배를 받으면서 A국의 언어만을 사용하도록 강요당했다. 그 결과 갑국의 고유한 언어는 사라지고, 갑국 사람들은 A국의 언어만을 사용하게 되었다.


(나) 을국은 토착 종교가 널리 퍼져 있었으나 B국에서 온 선교사들의 포교 활동으로 인해 B국 종교가 전파되었다. 그 결과 토착 종교의 교리와 B국 종교의 교리가 결합된 새로운 교리의 종교가 만들어져 을국의 많은 사람들이 이를 믿게 되었다.

- ① (가)에서는 문화 융합이 나타난다.
- ② (가)에서는 발견에 의한 문화 변동이 나타난다.
- ③ (나)에서는 문화 동화가 나타난다.
- ④ (나)에서는 직접 전파에 의한 문화 변동이 나타난다.
- ⑤ (가)와 (나)에서는 모두 자발적 문화 접변이 나타난다.

19. 다음은 신문 기사의 일부이다. 환경 문제 (가)에 대한 설명으로 옳은 것은? [3점]

◇◇신문

20○○년 △△월 □□일

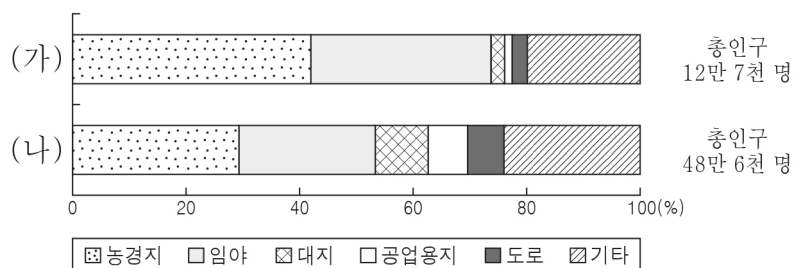


<하프 문을 조성하는 모습>

아프리카 사헬 지대에서 (가) 이/가 심화에 따라 토양이 황폐해져 식량 생산량이 감소하고 있다. 이를 해결하기 위한 여러 노력 중 ‘하프 문(Half-moons)’ 조성 프로젝트가 주목받고 있다. 하프 문은 반달 모양의 구덩이로, 구덩이 속에 빗물이 고이게 함으로써 식물의 생장을 돕는 기능을 한다.

- ① 농경지 확대, 상업적 벌목 등으로 인해 열대림이 파괴되는 현상이다.
- ② 매연을 비롯한 대기 오염 물질이 안개와 결합하여 나타나는 현상이다.
- ③ 황산화물과 질소 산화물 등의 대기 오염 물질이 비와 섞여 내리는 현상이다.
- ④ 염화 플루오린화 탄소(CFCs)의 사용량 증가로 인해 성층권의 오존층이 파괴되는 현상이다.
- ⑤ 지속적인 가뭄, 과도한 경작 및 방목 등으로 인해 기존에 사막이 아니던 곳이 사막으로 변해 가는 현상이다.

20. 다음 자료는 두 시기의 ○○시 용도별 토지 이용 비율과 총인구를 나타낸 것이다. (가), (나) 시기에 대한 옳은 설명만을 <보기>에서 고른 것은? (단, (가), (나) 시기는 각각 1998년, 2021년 중 하나임.) [3점]



* 대지는 가옥, 건축물 등을 지을 용도로 사용되는 토지임.

** (가), (나) 시기의 ○○시 총면적은 유의미한 차이가 없음.

< 보 기 >

- ㄱ. (가)는 (나)보다 인구 밀도가 낮다.
- ㄴ. (가)는 (나)보다 지표의 포장 면적이 좁다.
- ㄷ. (나)는 (가)보다 토지 이용 집약도가 낮다.
- ㄹ. (나)는 (가)보다 3차 산업 종사자 수가 적다.

- ① ㄱ, ㄴ ② ㄱ, ㄷ ③ ㄴ, ㄷ ④ ㄴ, ㄹ ⑤ ㄷ, ㄹ

※ 확인 사항

- 답안지의 해당란에 필요한 내용을 정확히 기입(표기)했는지 확인하십시오.